

## Pracovní list

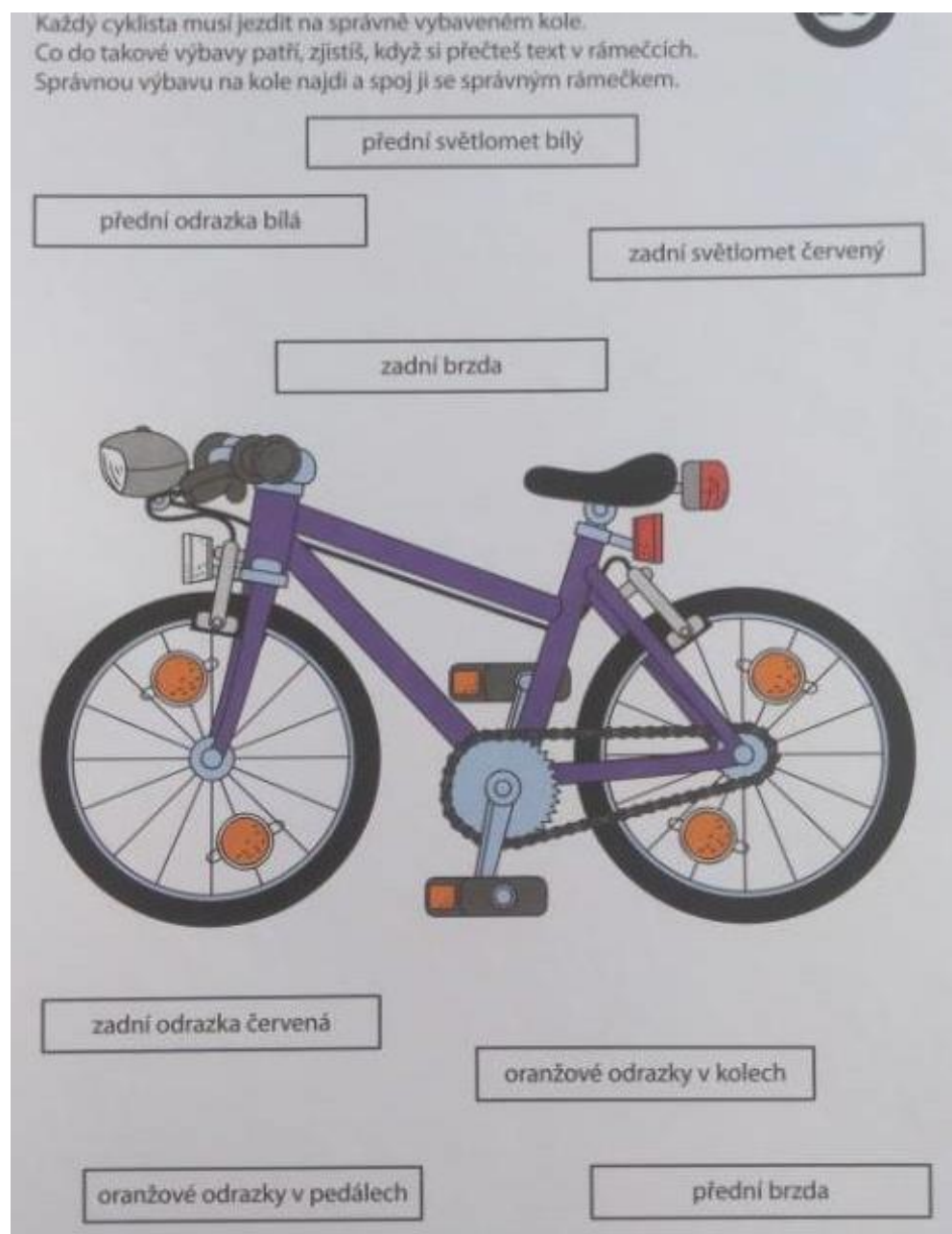
**Předmět: ČLOVĚK A JEHO SVĚT**

**Ročník: 4.**


**Opakování vzdělávacího celku: DOPRAVNÍ VÝCHOVA - CYKLISTA**

**Učivo do 22. 3. bylo žákům zadáno, následující pracovní list slouží pro další procvičování.**


### 1. Povinná výbava kola.



## 2. Vypracuj podle návodu



## 3. Dokresli na kolo vše, co patří do povinné výbavy.



#### 4. Označ, co je správně

Jízdní kolo, které používáš k jízdě za snížené viditelnosti v silničním provozu, nemusí povinně mít:

1. světlomet
2. přední a zadní brzdu
3. přední odrazku bílé barvy
4. hustilku (pumpičku)
5. zadní odrazku červené barvy
6. oranžovou odrazku na pedálech
7. oranžové odrazky na paprscích kol
8. zadní svítilnu červené barvy
9. zdroj elektrického proudu

Zkontroluj si. Vypočítej výsledky, nebo urči čísla podle pokynů:

Na řádek napiš písmeno, které je v abecedě na místě určeném číslem v rámečku (abeceda = i písmena s háčky). Slož slovo.

A, B, C, Č, \_\_\_\_\_

Podíl čísel 231 a 7    Nejnižší liché číslo    Součin čísel 25 a 9 zmenšený o 221    Součet čísel 159 a 75 zmenšený devětkrát

<input type="text"/>	<input type="text"/>	<input type="text"/>	<input type="text"/>
----------------------	----------------------	----------------------	----------------------

Rozdíl čísel 896, 356 a 511    Nejnižší sudé číslo, které se skládá ze dvou stejných sudých čísel    Nejnižší sudé číslo, jehož ciferný součet je osm    Podíl čísel 490 a 70

<input type="text"/>	<input type="text"/>	<input type="text"/>	<input type="text"/>
----------------------	----------------------	----------------------	----------------------

Tajenka: \_\_\_\_\_ (poslední hláska je dlouhá)

Povinně tvé kolo nemusí být vybaveno \_\_\_\_\_. Jistě ale uznáš, že je výhodné mít ji.

Další materiály k tématu najdete na internetových stránkách: [www.ibesip.cz](http://www.ibesip.cz)