

Základní škola Zachar, Kroměříž, příspěvková organizace

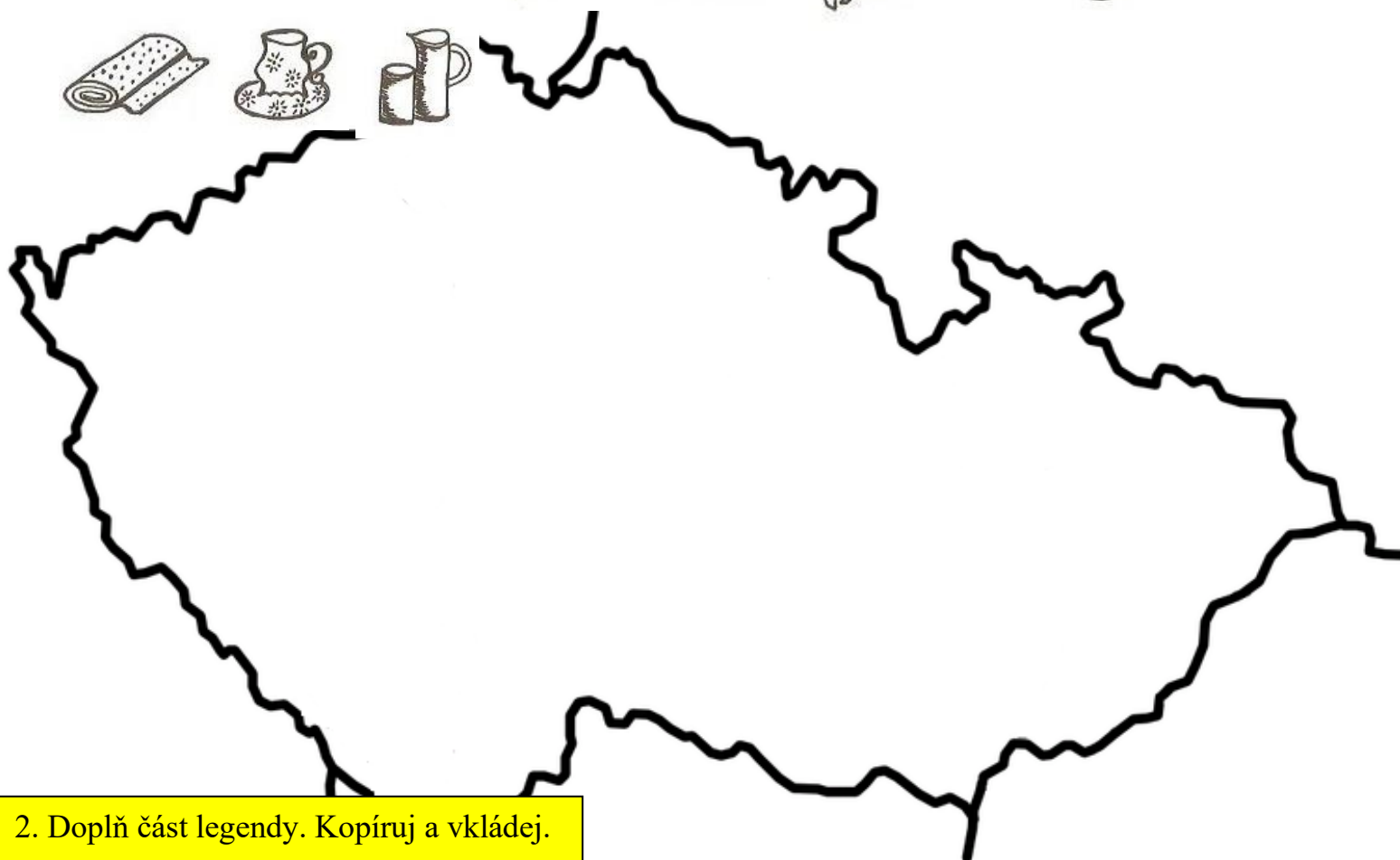

Pracovní list

Předmět: Zeměpis

Ročník: devátý





Opakování vzdělávacího celku: Česká republika

1. Rozděl obrázky na správná místa a vytvoř tak schematickou mapu průmyslu. Každému z nich najdi alespoň jedno místo. Obrázek můžeš zkopírovat a vložit. Pracuj



2. Doplň část legendy. Kopíruj a vkládej.

Legenda mapy

- | | | | |
|-----------|---|------------------|---------------|
| bižuterie |  | strojírenský | potravinářský |
| chemický |  | keramický | |
| sklářský |  | elektrotechnický | |
| |  | | |

3. Dopln k útržkům z textu v novinách odpovídající název průmyslu.

Dopln ANO/NE podle toho, zda je tvrzení pravdivé.

útržek z textu	průmysl	ANO/NE
Nákladní automobily Avia se vyrábějí v Praze.		
K nejdůležitějším chemickým závodům patří například chemičky v Pardubicích a Kolíně.		
Továrnu na výrobu nákladních automobilů značky Tatra najdeme v Kopřivnici.		
Mezi největší výrobce piva patří Plzeňský Prazdroj.		
Vozy Huyndai a Kia se vyrábí v Nošovicích u Frýdku Místku.		
Jaderné elektrárny Temelín a Dukovany byly postaveny, aby vyráběly elektrickou energii.		
Cukrovary najdeme třeba v Polabí nebo Poodří.		
Pardubice jsou proslulé výrobou voňavého perníku.		
Lesní hospodářství poskytuje kvalitní dřevo pro výrobu nábytku.		

Další materiály najdete v učebnici a sešitě