

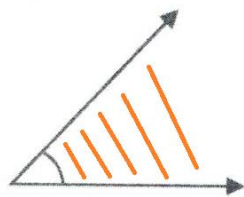
Pracovní list

Předmět: matematika

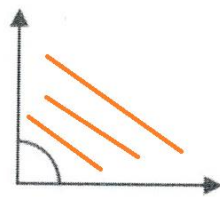
Ročník: šestý

Opakování vzdělávacího celku: úhly

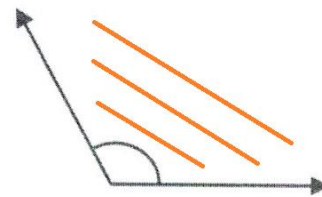
1. Vybarvi část naznačeného úhlu a urči, zda je ostrý, pravý, tupý nebo přímý.




OSTRÝ




PRÁVÝ




TUPÝ



TUPÝ



PŘÍMÝ



OSTRÝ

2.

a) α, γ a β, ε

b) nemá řešení

c) φ, σ

3.

a) α, β a ϵ, γ

β, γ a α, ϵ

b) β, π

c) φ, ψ a ψ, σ

4.

a) souhlasné:

β, π a φ, ω

γ, ψ

b) střídavé:

α, ψ a β, ω

φ, π