


Pracovní list

Předmět: Matematika

Ročník: 3.

Opakování vzdělávacího celku: Písemné sčítání/odčítání dvojciferných čísel, písemné sčítání/odčítání trojiciferných čísel

1. Z čísel v bublinách sestav všechny možné příklady (napiš vždy dvě čísla pod sebe), vypočítej sčítáním, proved' zkoušku. Obrázek vybarvi.



Např:

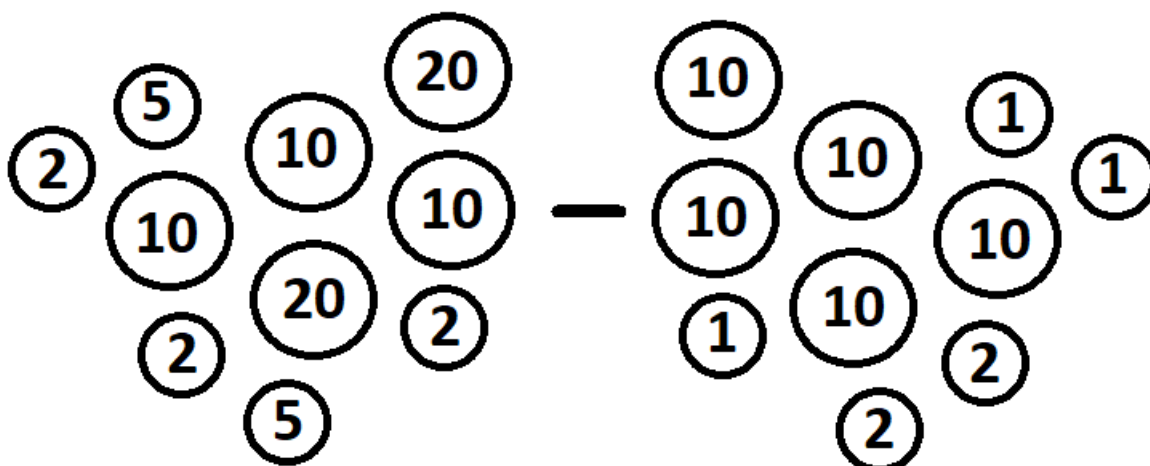
63 Zk:**19**

19 63

_____	_____	_____	_____	_____
_____	_____	_____	_____	_____
_____	_____	_____	_____	_____
_____	_____	_____	_____	_____
_____	_____	_____	_____	_____

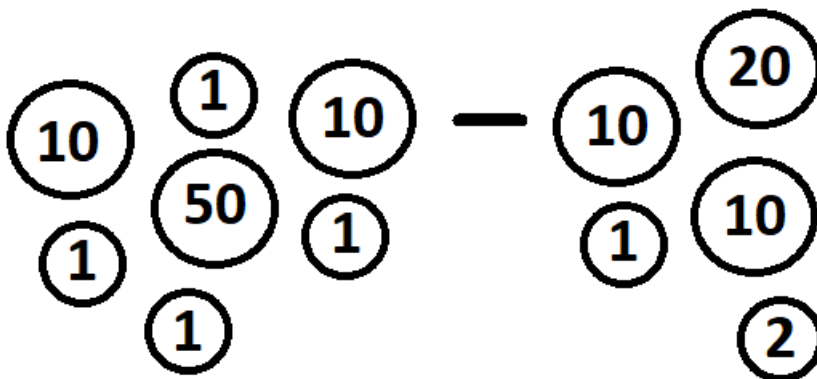
2. Písemné odčítání

- a) Spočítej kolik Kč je v mincích na obrázku, výsledek zapiš na linku pod každý obrázek
- b) Výsledky na linkách ze cvičení a) zapiš pod sebe, vypočítej písemným odčítáním, proved' zkoušku



a) _____

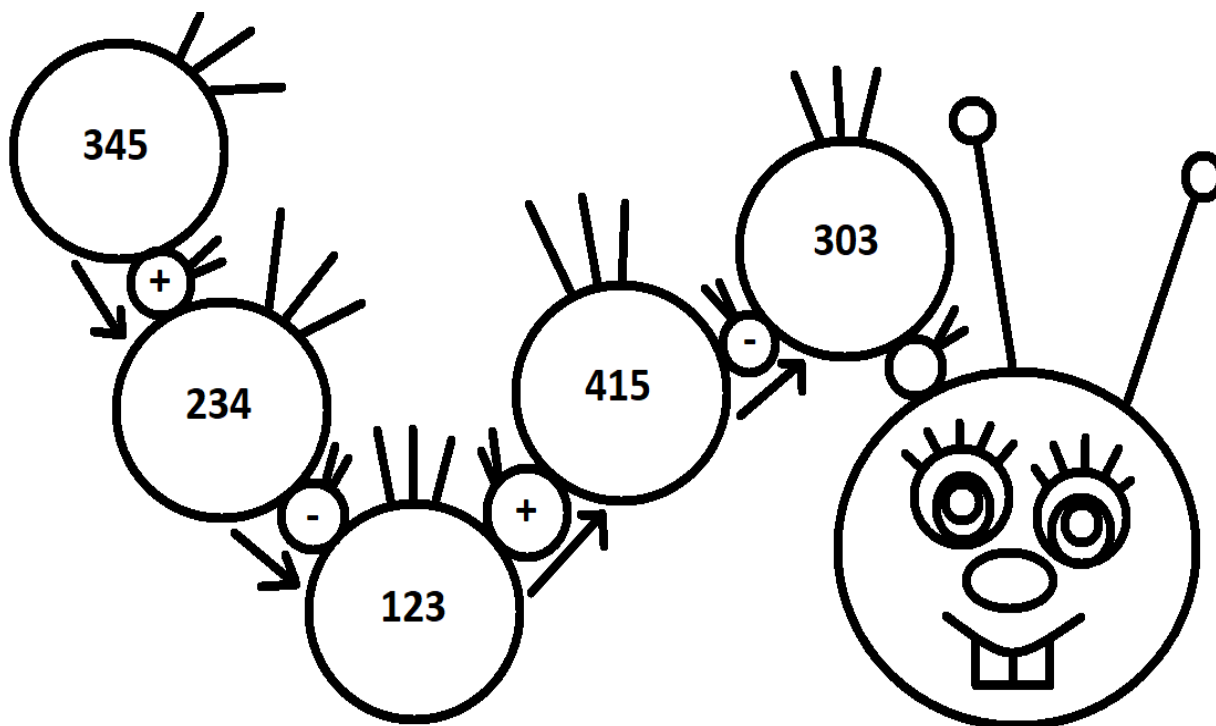
b) _____ Zk: _____
 = _____



a) _____

b) _____ Zk: _____
 = _____

3. Vytvoř z čísel v housence čtyři příklady dle směru šipek (vždy dvě čísla запиš pod sebe a vypočítej písemným sčítáním nebo odčítáním dle znaménka v housence). Proved' zkoušku. Housenku vybarvi.



Např:

345 Zk:234

234

Zk: _____

Zk: _____

Zk: _____

Nápověda:

Sčítání

S	D	J
2	3	5
1	2	4
3	5	9

Zkouška

S	D	J
1	2	4
2	3	5
3	5	9

Odčítání

S	D	J
5	6	9
-1	3	7
4	3	2

Zkouška

S	D	J
4	3	2
1	3	7
5	6	9