


Pracovní list

Předmět: Matematika

Ročník: 3.

Opakování vzdělávacího celku: Písemné sčítání/odčítání dvojciferných čísel, písemné sčítání/odčítání trojciferných čísel

1. Z čísel v bublinách sestav všechny možné příklady (napiš vždy dvě čísla pod sebe), vypočítej sčítáním, proved' zkoušku. Obrázek vybarvi.



Např:

$$\begin{array}{r} 63 \\ + 19 \\ \hline 82 \end{array} \quad \begin{array}{r} 63 \\ + 63 \\ \hline 82 \end{array}$$

$$\begin{array}{r} 63 \\ + 26 \\ \hline 89 \end{array} \quad \begin{array}{r} 63 \\ + 63 \\ \hline 89 \end{array}$$

$$\begin{array}{r} 63 \\ + 31 \\ \hline 94 \end{array} \quad \begin{array}{r} 63 \\ + 63 \\ \hline 94 \end{array}$$

$$\begin{array}{r} 63 \\ + 35 \\ \hline 98 \end{array} \quad \begin{array}{r} 63 \\ + 63 \\ \hline 98 \end{array}$$

$$\begin{array}{r} 19 \\ + 26 \\ \hline 45 \end{array} \quad \begin{array}{r} 19 \\ + 19 \\ \hline 45 \end{array}$$

$$\begin{array}{r} 19 \\ + 31 \\ \hline 50 \end{array} \quad \begin{array}{r} 19 \\ + 19 \\ \hline 50 \end{array}$$

$$\begin{array}{r} 19 \\ + 35 \\ \hline 54 \end{array} \quad \begin{array}{r} 19 \\ + 19 \\ \hline 54 \end{array}$$

$$\begin{array}{r} 26 \\ + 31 \\ \hline 57 \end{array} \quad \begin{array}{r} 26 \\ + 26 \\ \hline 57 \end{array}$$

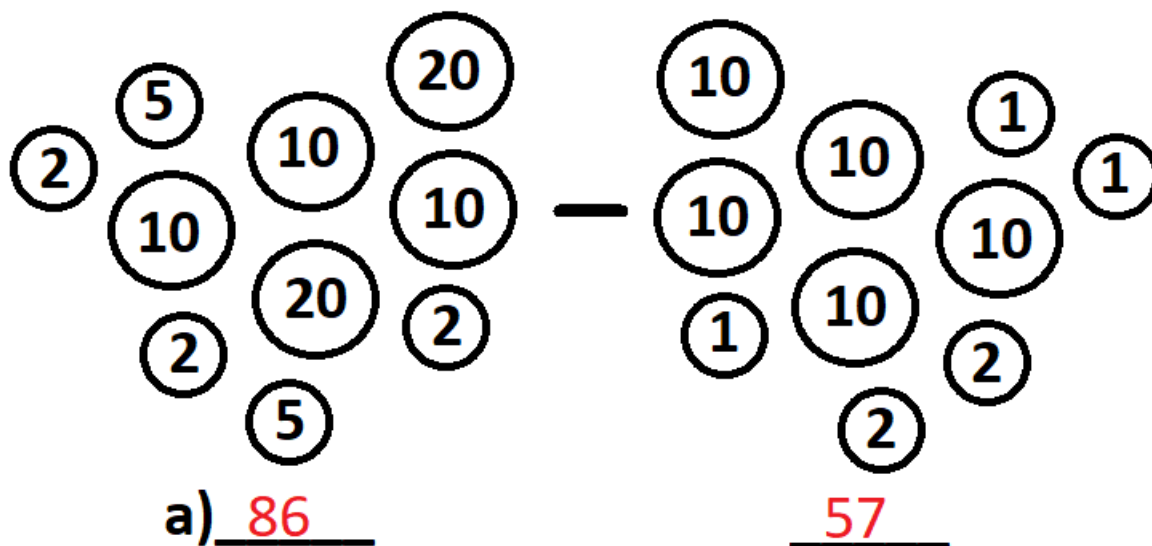
$$\begin{array}{r} 26 \\ + 35 \\ \hline 61 \end{array} \quad \begin{array}{r} 26 \\ + 26 \\ \hline 61 \end{array}$$

$$\begin{array}{r} 31 \\ + 35 \\ \hline 66 \end{array} \quad \begin{array}{r} 31 \\ + 31 \\ \hline 66 \end{array}$$

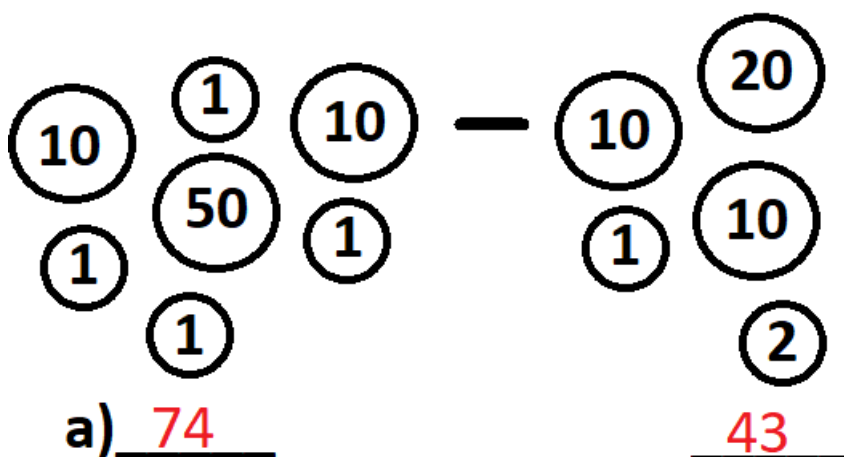
2. Písemné odčítání

a) Spočítej kolik Kč je v mincích na obrázku, výsledek zapiš na linku pod každý obrázek

b) Výsledky na linkách z cvičení a) zapiš pod sebe, vypočítej písemným odčítáním, proved' zkoušku

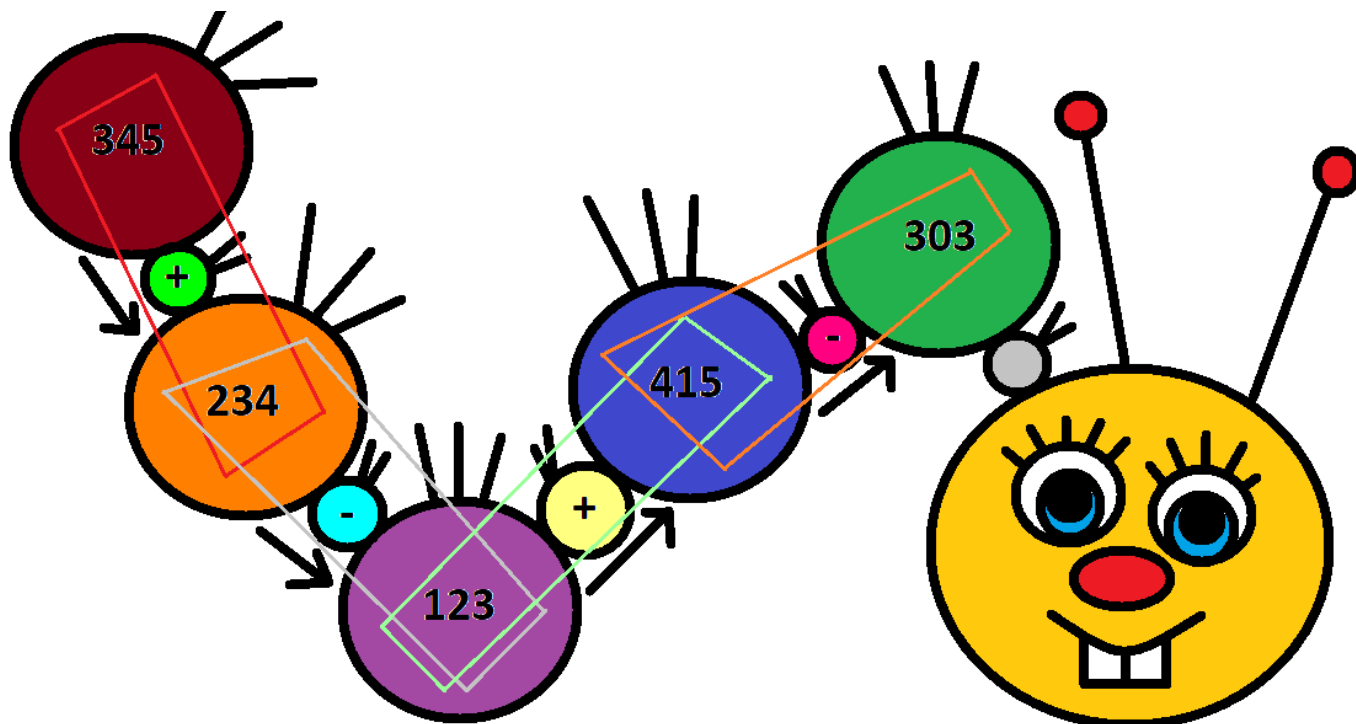


b)
$$\begin{array}{r} 86 \\ - 57 \\ \hline 29 \end{array}$$
 Zk:
$$\begin{array}{r} 29 \\ + 57 \\ \hline 86 \end{array}$$



b)
$$\begin{array}{r} 74 \\ - 43 \\ \hline 31 \end{array}$$
 Zk:
$$\begin{array}{r} 31 \\ + 43 \\ \hline 74 \end{array}$$

3. Vytvoř z čísel v housence čtyři příklady dle směru šipek (vždy dvě čísla zapiš pod sebe a vypočítej písemným sčítáním nebo odčítáním dle znaménka v housence). Proved' zkoušku. Housenku vybarvi.



Např:

345	Zk: 234	234	Zk: 111
$\underline{234}$	$\underline{345}$	$\underline{-123}$	$\underline{123}$
579	579	111	234

123	Zk: 415	415	Zk: 112
$\underline{415}$	$\underline{123}$	$\underline{-303}$	$\underline{303}$
538	538	112	415

Nápověda:

Sčítání			Zkouška				Odčítání			Zkouška				
S	D	J	S	D	J	S	D	J	S	D	J	S	D	J
2	3	5	1	2	4	5	6	9	4	3	2	5	6	9
1	2	4	2	3	5	-1	3	7	1	3	7	1	3	7
3	5	9	3	5	9	4	3	2	5	6	9	5	6	9