



Základní škola Zachar, Kroměříž, příspěvková organizace

## Pracovní list

**Předmět: Matematika**

**Ročník: 3.**

**Opakování vzdělávacího celku: Geometrické tvary**


**1. Jaké znáš geometrické tvary?**

---


**2. Jaké pomůcky potřebuješ při rýsování?**

---


**3. Motýli a beruška létají kolem geometrických útvarů. Vyber a doplň do vět název správného geometrického útvaru (kružnice, čtverec, trojúhelník, obdélník).**



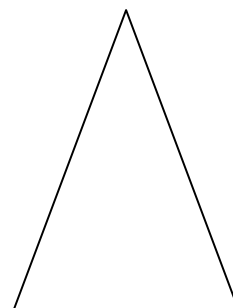
modrý motýl



žlutý motýl



beruška



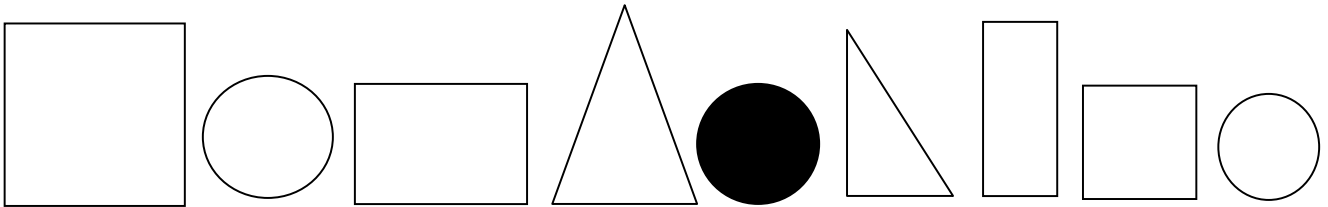
zelený motýl

- a) Beruška létá kolem \_\_\_\_\_
- b) Modrý motýl létá kolem \_\_\_\_\_
- c) Zelený motýl létá kolem \_\_\_\_\_
- d) Žlutý motýl létá kolem \_\_\_\_\_

b) Změř délku cesty každého motýlka. Který toho nalétal nejvíce?

\_\_\_\_\_

**6. a) Vybarvi obrazce podle pokynů:**



- Čtverec vybarvi modře.
- Kružnici vybarvi červeně.
- Obdélník vybarvi zeleně.
- Trojúhelník vybarvi žlutě.

**b) Odpověz na otázky:**

Jak se nazývá útvar, který je uprostřed? \_\_\_\_\_

Jak se nazývá útvar, který je třetí zprava? \_\_\_\_\_

Jak se nazývá útvar, který je druhý zleva? \_\_\_\_\_

Jak se nazývá útvar, který je čtvrtý zleva? \_\_\_\_\_

Jak se nazývá útvar, který je druhý zprava? \_\_\_\_\_

**7. Nakresli obrázek složený jen z geometrických tvarů.**



**Vypracoval:** Marek Šón