


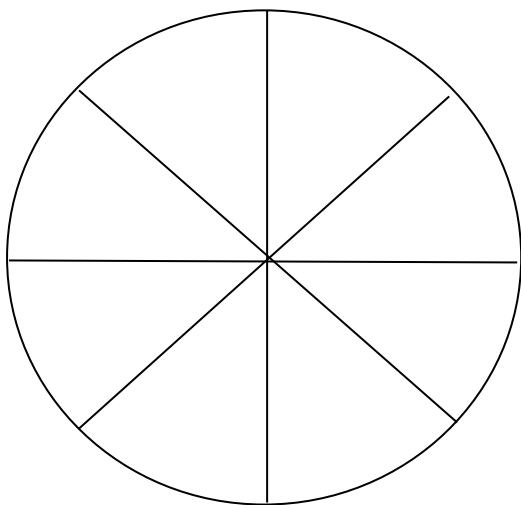


Pracovní list

Předmět: Matematika

Ročník: 5.B

**Opakování vzdělávacího celku: Zlomky
Slovní úlohy**

1. Vybarvi $\frac{1}{2}$ každého z útvarů.



2. Vypočítej slovní úlohy.

2.1 Ve třídě je 26 žáků. Jedna polovina žáků se učí anglicky. Kolik je to žáků?

x =

x =

2.2 Maminka nakoupila v obchodě 1 kg jablek, půl kilogramu mrkve, čtvrt kilogramu petržele, čtvrt kilogramu česneku, třičtvrtě kilogramu cibule a půl kilogramu paprik.

Jakou hmotnost měl celý nákup?

x = 1 000 g + ...

x =

2.3 Pražský hrad navštívilo v dubnu tři tisíce šest set dvacet osm turistů, v květnu sedm tisíc čtyři sta padesát dva turistů, v červnu devět tisíc sedm set čtyřicet osm turistů, v červenci dvacet šest tisíc pět set dvacet turistů a v srpnu dvacet sedm tisíc sto třicet šest turistů.

Zapiš tyto údaje čísly.

duben

květen

červen

červenec

srpen

Kolik turistů navštívilo Pražský hrad za uvedené měsíce celkem?

x =

x =

Vypracovala: Mgr. Petra Ovečková