

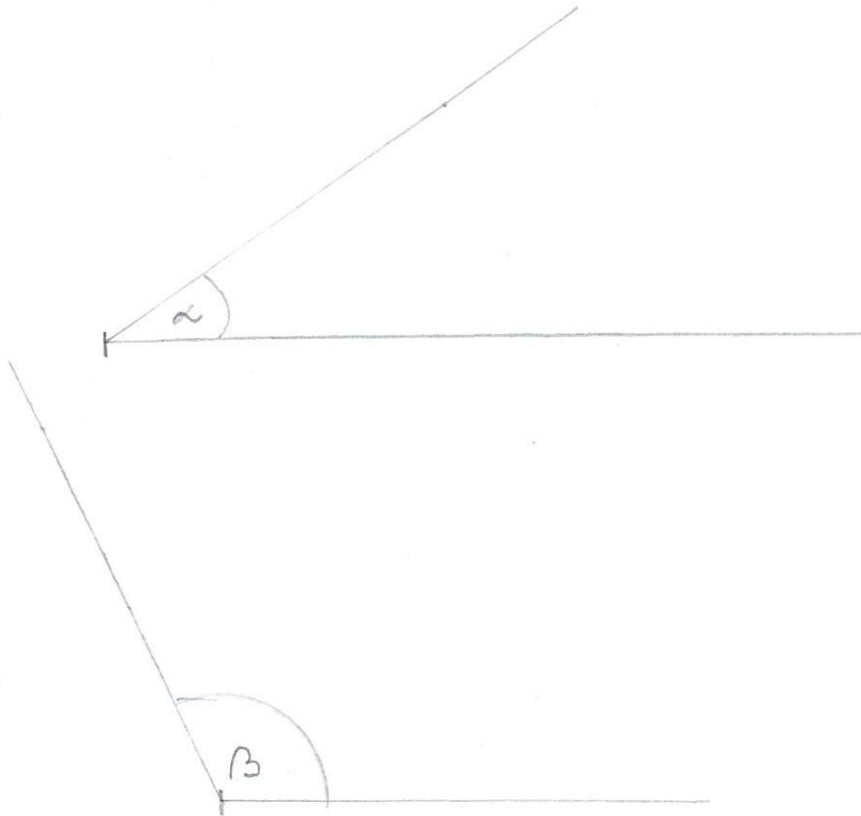
Pracovní list

Předmět: Matematika

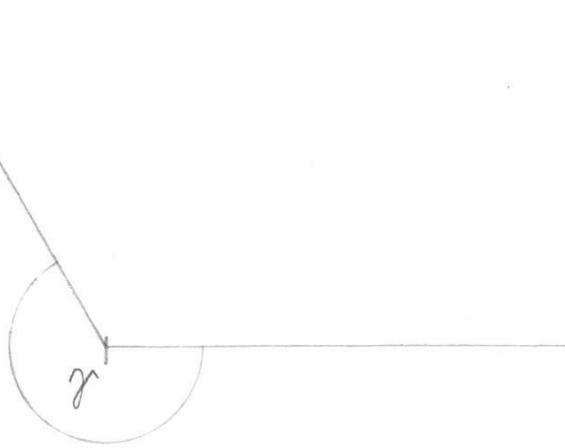
Ročník: šestý

Opakování vzdělávacího celku: Rýsování úhlů pomocí úhломěru

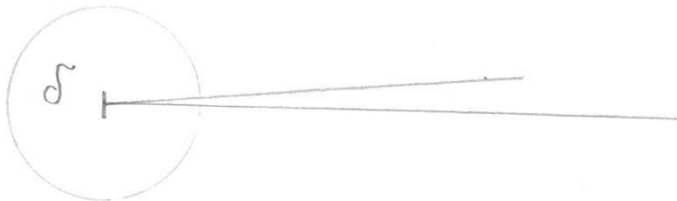
1. Narýsuj úhel $\alpha = 34^\circ$
2. Narýsuj úhel $\beta = 116^\circ$
3. Narýsuj úhel $\gamma = 240^\circ$
4. Narýsuj úhel $\delta = 355^\circ$



$$240^\circ = 360^\circ - \underline{120^\circ}$$



$$55^\circ = 360^\circ - \underline{5^\circ}$$



Vypracovala: Zuzana Složilová