

Pracovní list

Předmět: Matematika

Ročník: 5. A

Opakování vzdělávacího celku: Zlomky – zápis, porovnávání, vyjádření části celku

1. Zapiš zlomkem.

dvě pětiny

pět sedmin

šest devítin

jedna třetina

osm pětín

šest desetin

dvě poloviny

patnáct dvanáctin

tři osminy

čtyři čtvrtiny

tři šestiny

dvě sedminy

pět čtvrtin

dvě třetiny

čtyři jedenáctiny

sedm čtvrtin

deset šestin

jedna šestina

sedmnáct dvacetin

sedm šestnáctin

2. Pracuj se zlomky ze cvičení 1.










a) Zlomky menší než 1 zakroužkuj zeleně.

b) Zlomky větší než 1 zakroužkuj červeně.

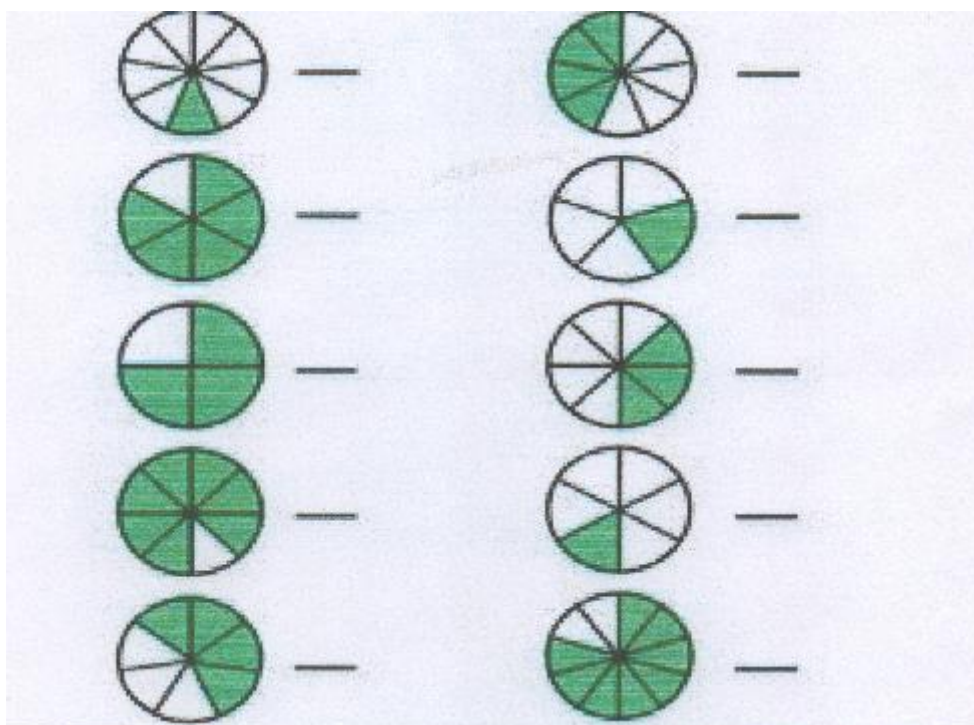
c) Vypiš zlomky, které jsou rovny 1.

d) Najdeš příklad zlomků, které vyjadřují stejnou část celku?

3.

1)		$\frac{1}{2}$	$\frac{3}{6}$	$\frac{5}{6}$	$\frac{1}{6}$	$\frac{6}{5}$
2)		$\frac{1}{4}$	$\frac{3}{4}$	$\frac{1}{6}$	$\frac{1}{3}$	$\frac{1}{5}$
3)		$\frac{1}{2}$	$\frac{3}{8}$	$\frac{1}{6}$	$\frac{1}{7}$	$\frac{6}{8}$
4)		$\frac{1}{3}$	$\frac{3}{6}$	$\frac{1}{2}$	$\frac{1}{5}$	$\frac{1}{4}$
5)		$\frac{4}{6}$	$\frac{5}{6}$	$\frac{4}{5}$	$\frac{1}{6}$	$\frac{3}{5}$
6)		$\frac{1}{3}$	$\frac{1}{4}$	$\frac{1}{2}$	$\frac{1}{5}$	$\frac{2}{1}$
7)		$\frac{1}{2}$	$\frac{3}{4}$	$\frac{5}{6}$	$\frac{1}{4}$	$\frac{4}{3}$
8)		$\frac{1}{6}$	$\frac{2}{3}$	$\frac{3}{3}$	$\frac{1}{3}$	$\frac{2}{5}$
9)		$\frac{3}{5}$	$\frac{3}{4}$	$\frac{5}{4}$	$\frac{4}{6}$	$\frac{4}{5}$

4. Zapiš zlomkem vyznačenou část celku.



Vypracovala: Mgr. Eva Zlámalová