

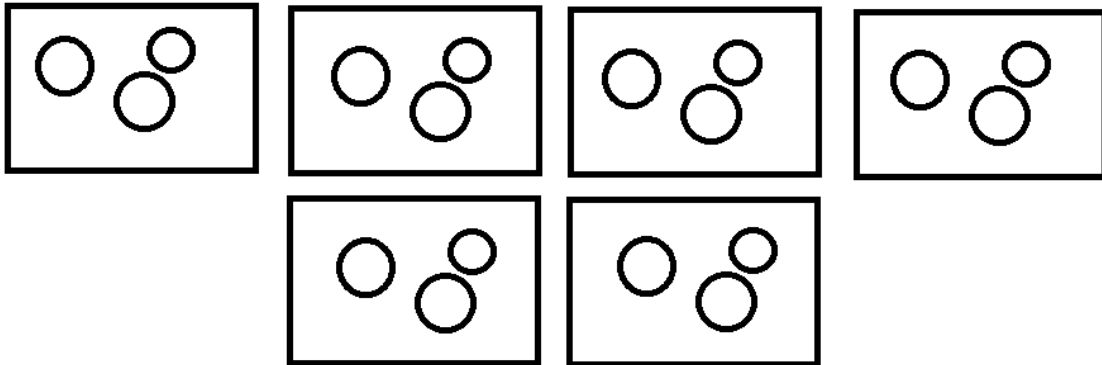
## Pracovní list

**Předmět: Matematika**

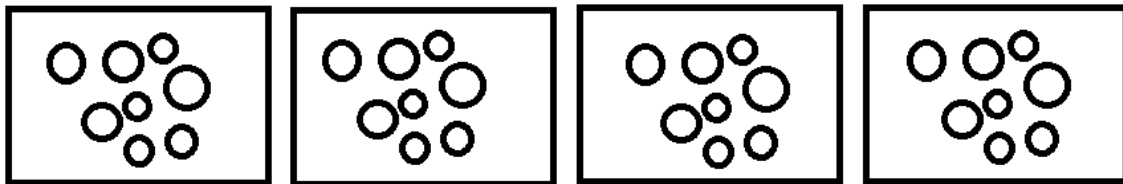
**Ročník: 3.**

**Opakování vzdělávacího celku: Násobení**

1. Podle obrázků vymysli příklady na násobení, napiš na linku a vypočítej:

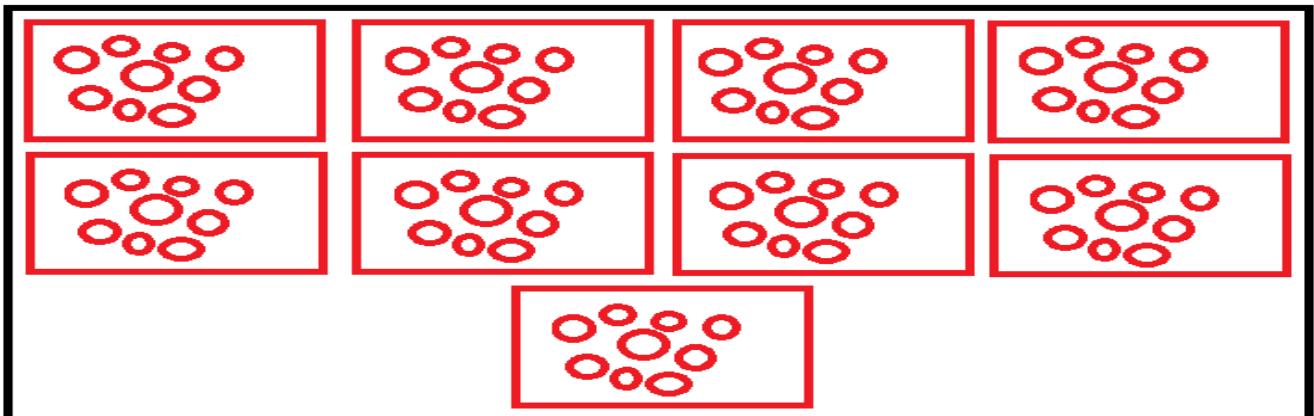


$$6 \times 3 = 18$$



$$4 \times 8 = 32$$

2. Vypočítej příklad a do rámečku tento příklad znázorni pomocí obrázků, jako v prvním cvičení:  $9 \times 9 = 81$



Vypracoval: Mgr. Kamila Štěpánková