

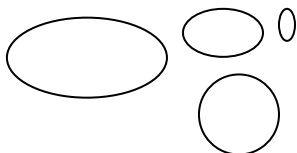
## Pracovní list

**Předmět: Zeměpis**

**Ročník: 6.**

**Opakování vzdělávacího celku: biosféra**

**1. Nakresli souostroví. (1 bod)**



**2. Kolik % zemského povrchu zaujímají moře a oceány? (1 bod)**

71%

**3. Který oceán leží mezi Evropou a Amerikou? (1 bod)**

a/ Atlantský

b/ Tichý

c/ Indický

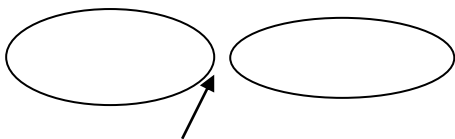
**4. Utvořte smysluplné dvojice. (3 body)**

dmutí	<del>—————</del>	ostrov
atol	<del>—————</del>	lidská stavba
průplav	<del>—————</del>	příliv

**5. Škrtněte pojmy, která se netýkají vody na pevnině. (3 body)**

~~průtok – tsunami – pramen – pasáty – povodí – exosféra~~

**6. Nakresli průliv. (1 bod)**



**7. Kolik % světových zásob vody obsahují moře a oceány? (1 bod)**

97%

**8. Který oceán leží mezi Asií a Amerikou? (1 bod)**

a/ Atlantský

**b/ Tichý**

c/ Indický

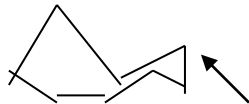
**9. Utvořte smysluplné dvojice. (3 body)**

vlnění		zemětřesení
dmutí		odliv
tsunami		vítr

**10. Škrtněte pojmy, která se netýkají vody na pevnině. (3 body)**

rozvodnice – ~~atol~~ – ~~tsunami~~ – soutok – povodí – ~~ionosféra~~

**11. Nakresli poloostrov. (1 bod)**



**12. Kolik % světových zásob vody tvoří sladká voda? (1 bod)**

3%

**13. Který oceán leží mezi Austrálií a Afrikou? (1 bod)**

- a/ Atlantský
- b/ Tichý
- c/ Indický

**14. Utvořte smysluplné dvojice. (3 body)**

mořské proudy		Měsíc
vlnění		teplota vody
dmutí		vítr

**15. Škrtněte pojmy, která se netýkají vody na pevnině. (3 body)**

~~troposféra~~ – soutok – ~~atol~~ – soutok – povodí – ~~průplav~~

**Další informace najdeš v učebnici nebo sešitě.**

**Vypracoval: Mgr. Jaroslav Fránek**