

Pracovní list

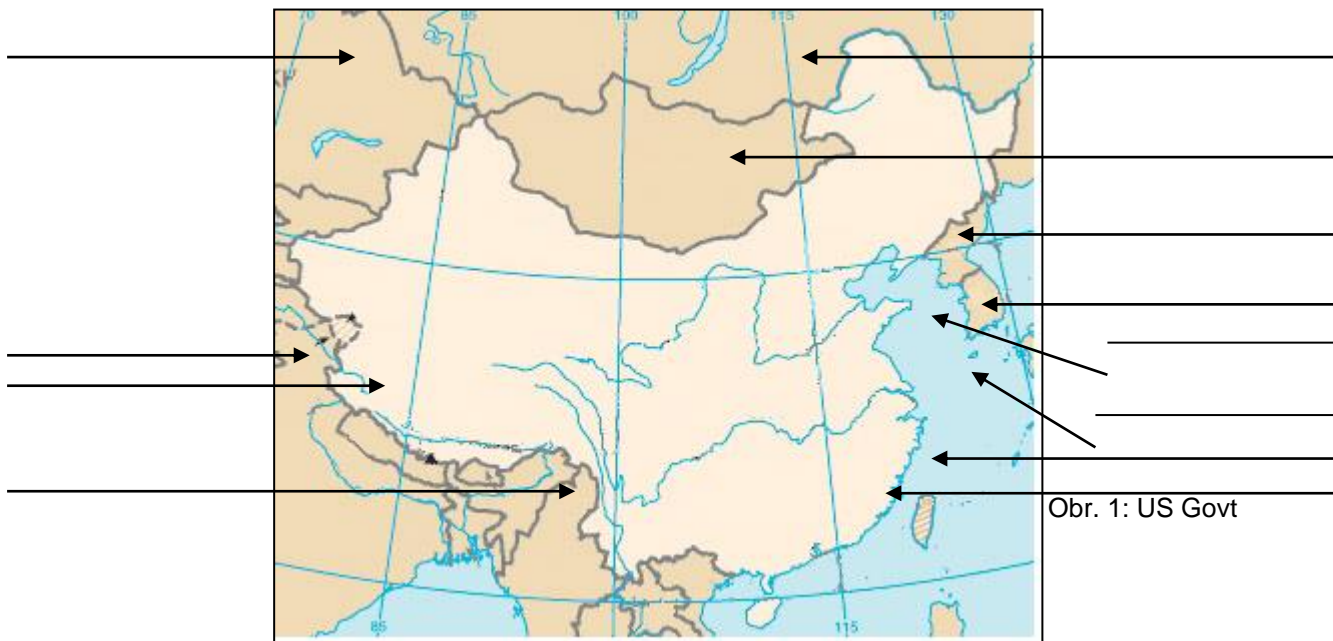
Předmět: Zeměpis

Ročník: 7.

Opakování vzdělávacího celku: Asie

ČÍNA

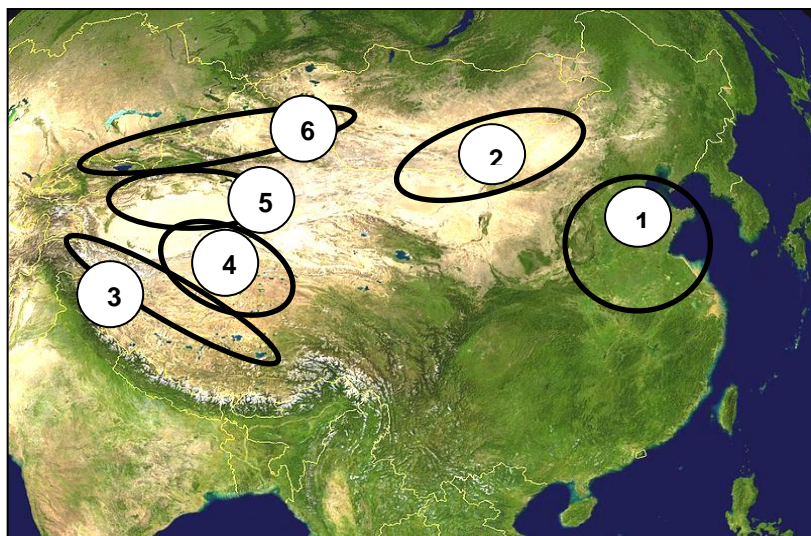
☺ Na mapce je znázorněna ČÍNA. Doplň k šipkám vybrané údaje související s její polohou.



Obr. 1: US Govt

☺ Odpověz na otázky:

- 1) Která moře omývají pobřeží Číny?
- 2) Se kterým státem má Čína nejdelší hranici?
- 3) Které tři poloostrovy hraničí s Čínou?



☺ Pojmenuj oblasti na obrázku:

- 1
- 2
- 3
- 4
- 5
- 6

☺ Doplň:


- 1) Jak se jmenuje nejdelší řeka Číny? Jak se jí říká česky?
 Do kterého moře ústí? Přes které velké město Číny
 protéká?
- 2) Jak se česky říká řece s názvem HUANG – HE? Kam ústí?

☺ Odhal čínské vynálezy:

- a) Látka vyráběná z vlákna kukel motýla bource morušového.
 b) Prášek umožňující výbuchy i použití pušky.
 c) Přístroj k určování světových stran.
 d) Materiál, ze kterého jsou vyrobené křehké talíře a hrnky.

☺ Poznáš stavbu na obrázku? Víš, jaký byl její význam?

.....



☺ Urči čínská města podle charakteristiky:


- 1) Hlavní město Číny: _ _ _ _ _ (_ _ _ _ _)
 2) Velké město v ústí řeky Chang – Jiang do
 Východočínského moře: _ _ _ _ _
 3) Město na břehu Jihočínského moře, bývalá britská
 kolonie: _ _ _ _ _ (_ _ _ _ _)
 4) Nejvýznamnější město a kulturní centrum Tibetu: _ _ _ _ _

☺ Dokážeš spočítat, kolik procent obyvatel Země tvoří Číňané?

Na Zemi žije asi 6,8 mld. obyvatel (r. 2010). Kolik obyvatel žije v Číně? (r. 2010)

Kolik je to procent? _ _ %. V následující mřížce je 100 čtverečků (100 % obyvatel Země)
 a každý představuje 1 procento. Červeně vybarvi, kolik čtverců připadá na obyvatele Číny.

Jinou barvou můžeš přidat i obyvatele Indie. V Indii žije 1,16 mld. obyvatel (r. 2009).



- ☺ Víš, jak se jmenuje území, které bylo násilně připojeno
 Čínou? _ _ _ _ _
 Kdo je hlavní představitel této oblasti? _ _ _ _ _
 Jaké náboženství je pro tuto oblast typické?
 _ _ _ _ _



Základní škola Zachar, Kroměříž, příspěvková organizace

Další informace najdeš v učebnici nebo sešitě.

Vypracoval: Mgr. Jaroslav Fránek