



Základní škola Zachar, Kroměříž, příspěvková organizace

Pracovní list

Předmět: Matematika

Ročník: 2. C

Opakování vzdělávacího celku: numerace 0 -100, tabulky, matematická křížovka

1.

Vypočítej:

$81 - 5 =$

$93 - 5 =$

$21 - 6 =$

$25 - 9 =$

$71 - 4 =$

$32 - 7 =$

$36 - 8 =$

$63 - 5 =$

$45 - 6 =$

$42 - 6 =$

$93 - 9 =$

$55 - 7 =$

$32 - 4 =$

$91 - 8 =$

$71 - 2 =$

$84 - 6 =$

$52 - 7 =$

$51 - 9 =$


$62 - 3 =$

$23 - 4 =$

2.


Doplň tabulky:

- 7



42	
33	
54	
61	
81	

- 8





24	
32	
65	
93	
56	

3.

Vypočítej příklady:

Výsledky zapiš do křížovky. V tajence je ukrytý název živočicha, kterého si můžeš vybarvit.

1.	$19 - 7 - 4 =$											
2.	$13 + 5 - 7 =$											
3.	$14 - 8 + 4 =$											
4.	$5 + 8 + 6 =$											
5.	$20 - 7 - 4 =$											
6.	$16 - 8 - 6 =$											



Vypracovala: Jiříková Soňa