

Pracovní list č. 13

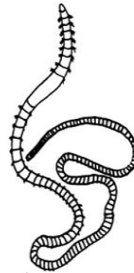
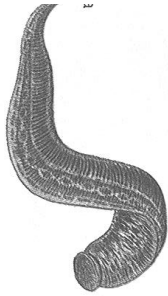
Předmět: Přírodopis

Ročník: 6.

Opakování vzdělávacího celku: Bezobratlí živočichové ve vodě a okolí

1. Který z těchto kroužkvců žijící v rybníku je parazit (cizopasník)? Pojmenuj je

a/ _____ b/ _____



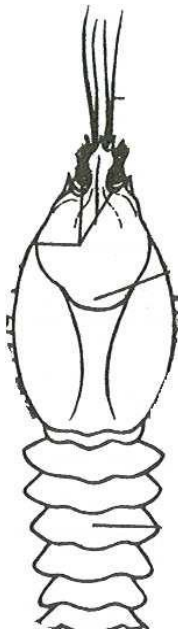
zdůvodni proč je parazit _____

a ověř si to v následujícím videu. Zároveň uvidíš využití tohoto parazita medicíně.

https://www.youtube.com/watch?v=6x2R7Td1_SM

2. Zopakuj si z učiva o lese, jaké společné znaky mají členovci.

3. Doplň podle učebnice chybějící části těla raka a doplň názvy všech částí.



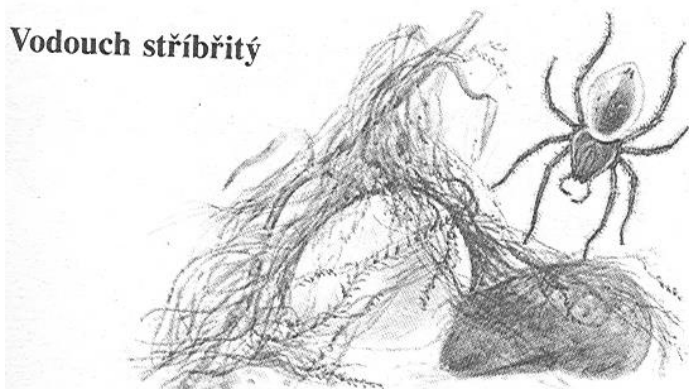
4. Do které skupiny raci patří _____
a co je pro tuto skupinu společným znakem _____

5. Napiš jména raků žijících v naší přírodě. Kterí z raků naší přírody jsou kriticky ohrožení a zákonem chráněni a kteří raci jsou zavlečenými (invazními) druhy.

Které další koryše žijící ve vodě znáš?

6. Zopakuj si stavbu těla pavouka Křížáka obecného a porovnej se stavbou těla Vodoucha stříbřitého.

Vodouch stříbřitý



7. Vodouch tká pod vodou pavučinu v podobě zvonu. Je to jeho vrozená činnost. Vrozeným činnostem se říká _____

8. K čemu všemu slouží Vodouchovi vzduchový zvon pod vodou. Trochu si zopakujeme i angličtinu☺. Mrkni na následující video.

<https://www.youtube.com/watch?v=1rlt9yAhqTw>

Další materiály k tématu najdete v učebnici
Vypracovala: Mgr. Jarmila Zapletalová