

Pracovní list č. 13 řešení

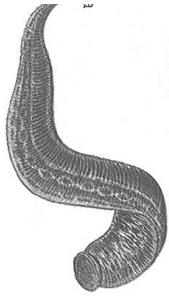
Předmět: Přírodopis

Ročník: 6.

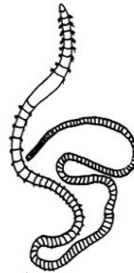
Opakování vzdělávacího celku: Bezobratlí živočichové ve vodě a okolí

1. Který z těchto kroužkovic žijící v rybníku je parazit (cizopasník)? Pojmenuj je

a/ Pijavka lékařská



b/ Nitěnka obecná



Zdůvodni, proč je parazit Pijavka lékařská se živí sáním krve jiných živočichů a ověř si to v následujícím videu. Zároveň uvidíš využití tohoto parazita medicíně.

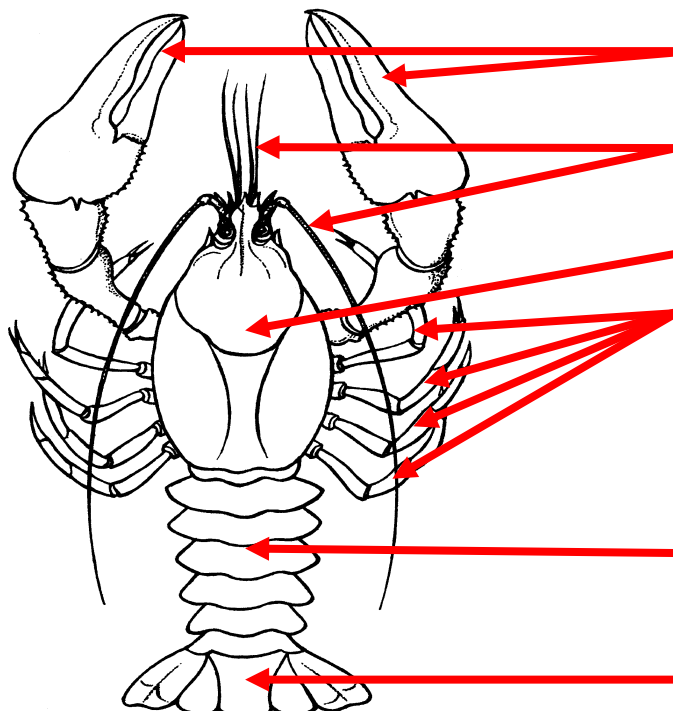
https://www.youtube.com/watch?v=6x2R7Td1_SM

2. Zopakuj si z učiva o lese, jaké společné znaky mají členovci.

Nestejněměrně článkované tělo a končetiny

3. Doplně podle učebnice chybějící části těla raka a doplň názvy všech částí.

Rak říční



klepeta

tykadla

hlavohrud'

končetiny

zadeček

ploutvička

4. Do které skupiny raci patří **KORÝŠI**

a co je pro tuto skupinu společným znakem **KRUNÝŘ** (složený z **CHITINU** a **UHLIČITANU VÁPENATÉHO**)

5. Napiš jména raků žijících v naší přírodě. Kterí z raků naší přírody jsou kriticky ohrožení a zákonem chráněni a kteří raci jsou zavlečenými (invazními) druhy.

§ RAK ŘÍČNÍ



§ RAK KAMENÁČ



§ nepůvodní Rak bahenní



RAK SIGNÁLNÍ



RAK PRUHOVANÝ



(přenášejí račí mor a sami jsou imunní)

Které další koryše žijící ve vodě znáš?

BUCHANKA



PERLOOČKA




BLEŠIVEC



BERUŠKA VODNÍ



LISTONOH

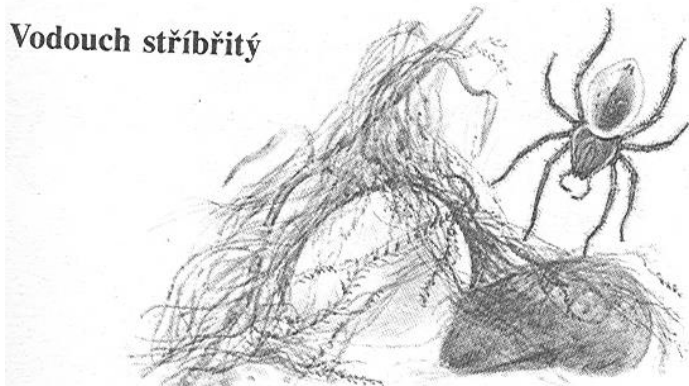


ŽÁBRONOŽKA



6. Zopakuj si stavbu těla pavouka Křížáka obecného a porovnej se stavbou těla Vodoucha stříbřitého.

Vodouch stříbřitý



7. Vodouch tká pod vodou pavučinu v podobě zvonu. Je to jeho vrozená činnost. Vrozeným činností se říká **INSTINKT**

8. K čemu všemu slouží Vodouchovi vzduchový zvon pod vodou. Trochu si zopakujeme i angličtinu☺. Mrkni na následující video.

<https://www.youtube.com/watch?v=1rlt9yAhqTw>

**UKLÁDÁNÍ A PŘÍJEM POTRAVY, PÁŘENÍ A KLADENÍ VAJÍČEK,
SVLÉKÁNÍ KŮŽE**