

## Pracovní list

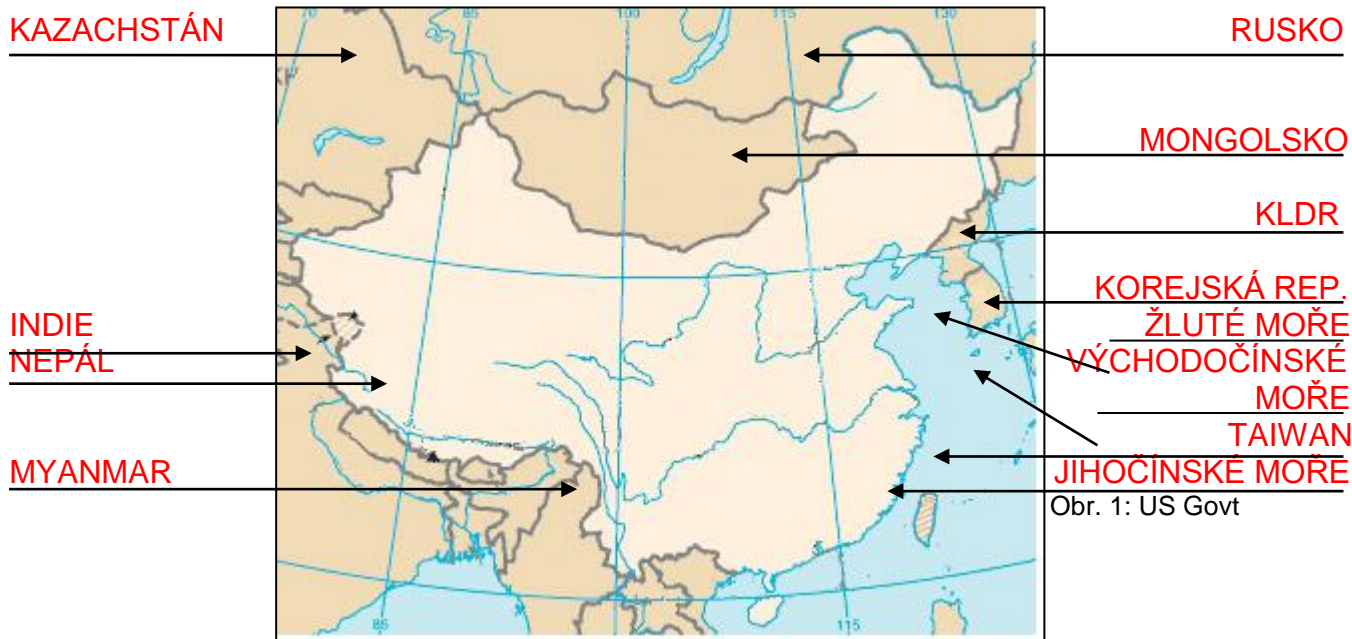
**Předmět: Zeměpis**

**Ročník: 7.**

**Opakování vzdělávacího celku: Asie**

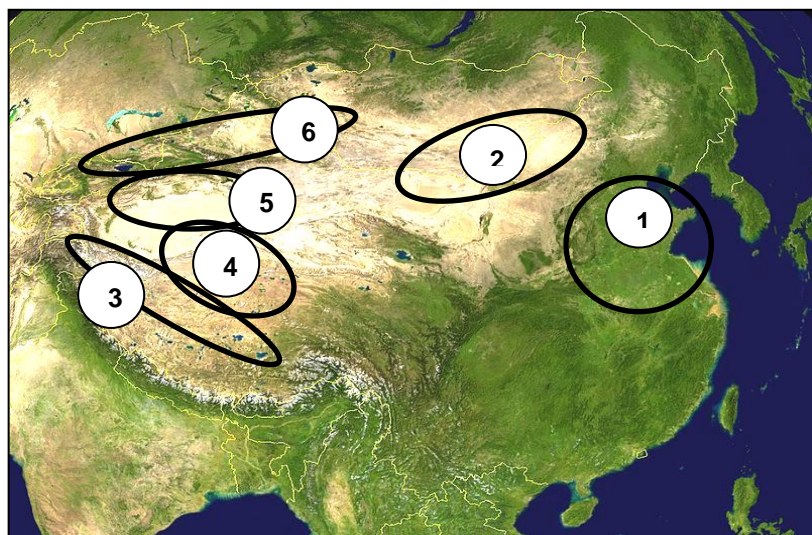
### ČÍNA

☺ Na mapce je znázorněna ČÍNA. Dopln k šipkám vybrané údaje související s její polohou.



☺ Odpověz na otázky:

- 1) Která moře omývají pobřeží Číny? **ŽLUTÉ, VÝCHODOČÍNSKÉ a JIHOČÍNSKÉ MOŘE**
- 2) Se kterým státem má Čína nejdelší hranici? **S MONGOLSKEM**
- 3) Které tři poloostrovy hraničí s Čínou? **KOREJSKÝ, ZADNÍ INDIE a PŘEDNÍ INDIE**



☺ Pojmenuj oblasti na obrázku:

- 1 **VELKÁ ČÍNSKÁ NÍŽINA**
- 2 **POUŠŤ GOBI**
- 3 **POHOŘÍ HIMÁLÁJ**
- 4 **TIBETSKÁ PLOŠINA**
- 5 **POUŠŤ TAKLAMAKAN**
- 6 **POHOŘÍ ŤAN - ŠAN**

☺ Dopln:


- 1) Jak se jmenuje nejdelší řeka Číny? **CHANG-JIANG**, jak se jí říká česky? **DLOUHÁ ŘEKA**.  
Do kterého moře ústí? **DO VÝCHODOČÍNSKÉHO MOŘE**. Přes které velké město Číny  
protéká? **PROTÉKÁ PŘES MĚSTO SHANGHAI**.
- 2) Jak se česky říká řece s názvem HUANG – HE? **ŽLUTÁ ŘEKA** Kam ústí? **DO ŽLUTÉHO  
MOŘE**

☉ Odhal čínské vynálezy:

- a) Látka vyráběná z vlákna kukel motýla bource morušového. **HEDVÁBÍ**
- b) Prášek umožňující výbuchy i použití pušky. **STŘELNÝ PRACH**
- c) Příklad k určování světových stran. **KOMPAS**
- d) Materiál, ze kterého jsou vyrobené křehké talíře a hrnky. **PORCELÁN**

☉ Poznáš stavbu na obrázku? Víš, jaký byl její význam?

**VELKÁ ČÍNSKÁ ZEĎ. JEJÍM ÚKOLEM BYLO CHRÁNIT  
ČÍNU PŘED NÁJEZDY MONGOLŮ ZE SEVERU**



☉ Urči čínská města podle charakteristiky:

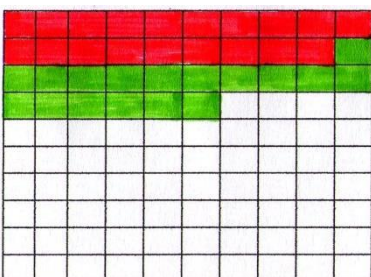
- 1) Hlavní město Číny: **BEIJING (PEKING)**
- 2) Velké město v ústí řeky Chang – Jiang do  
Východočínského moře: **SHANGHAI**
- 3) Město na břehu Jihočínského moře, bývalá britská  
kolonie: **HONGKONG (VICTORIA)**
- 4) Nejvýznamnější město a kulturní centrum Tibetu: **LHASA**

☉ Dokážeš spočítat, kolik procent obyvatel Země tvoří Číňané?

Na Zemi žije asi 6,8 mld. obyvatel (r. 2010). Kolik obyvatel žije v Číně? **1,3 mld. ob.** (r. 2010)

Kolik je to procent? **19 %** V následující mřížce je 100 čtverečků (100 % obyvatel Země)  
a každý představuje 1 procento. Červeně vybarvi, kolik čtverců připadá na obyvatele Číny.

Jinou barvou můžeš přidat i obyvatele Indie. V Indii žije 1,16 mld. obyvatel (r. 2009).



☉ Víš, jak se jmenuje území, které bylo násilně připojeno  
Čínou? **TIBET**

Kdo je hlavní představitel této oblasti? **DALAJL ÁMA**

Jaké náboženství je pro tuto oblast typické? **BUDDHISMUS**



Základní škola Zachar, Kroměříž, příspěvková organizace

**Další informace najdeš v učebnici nebo sešitě.**

**Vypracoval: Mgr. Jaroslav Fránek**